




## TRAVAIL SUR LA MONNAIE




### Faire l'appoint

Série 1: faire l'appoint	Utilise les pièces et les billets pour obtenir <b>92,75 €</b> 
Série 1: faire l'appoint	Utilise les pièces et les billets pour obtenir <b>21,36 €</b> 
Série 1: faire l'appoint	Utilise les pièces et les billets pour obtenir <b>19,98 €</b> 

### Calculer

Série 2: calculer	Utilise les pièces et les billets pour t'aider à calculer cette somme <b>15,50 + 2,50 €</b> 
Série 2: calculer	Utilise les pièces et les billets pour t'aider à calculer cette somme <b>57,75 + 1,25 + 3 €</b> 
Série 2: calculer	Utilise les pièces et les billets pour t'aider à calculer cette somme <b>2,92 + 1,05 + 3,05 €</b> 

### Arrondir

Série 3: compléter à l'euro proche	Utilise les pièces et les billets pour aller jusqu'à l'euro suivant <b>2,54 + ____ = 3</b> 
Série 3: compléter à l'euro proche	Utilise les pièces et les billets pour aller jusqu'à l'euro suivant <b>37,15 + ____ = 38 €</b> 
Série 3: compléter à l'euro proche	Utilise les pièces et les billets pour aller jusqu'à l'euro suivant <b>63,93 + ____ = 64 €</b> 

### Rendre la monnaie

Série 4: rendre la monnaie	Utilise les pièces et les billets pour rendre la monnaie <b>10 € pour payer 7,89 €</b> 
Série 4: rendre la monnaie	Utilise les pièces et les billets pour rendre la monnaie <b>10 € pour payer 6,24 €</b> 
Série 4: rendre la monnaie	Utilise les pièces et les billets pour rendre la monnaie <b>10 € pour payer 3,82 €</b> 